

2025 年度（令和7年度）

横浜女学院中学校

B 入学試験問題

令和7年2月1日(午後)

社 会

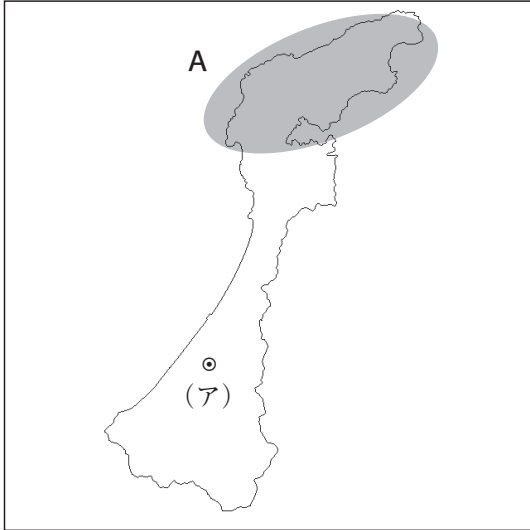
注 意

- 1 指示があるまで開けないでください。
- 2 問題は、14 ページあります。
- 3 解答はすべて解答用紙に記入しなさい。
- 4 試験所要時間は 30 分です。

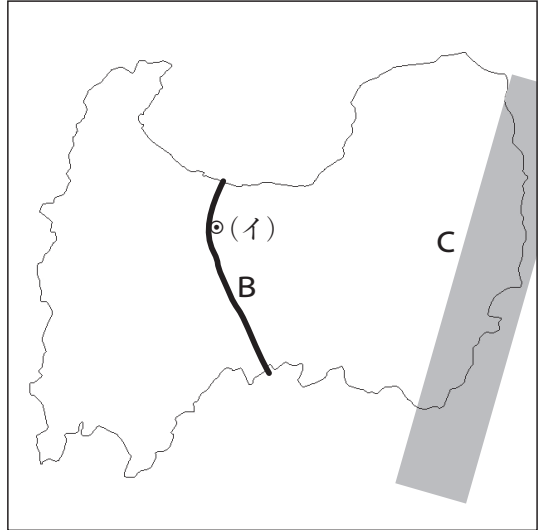
受験番号	氏 名
------	-----

【1】 次の【地図1】～【地図4】は北陸地方にある4つの県を示したものです。これに関するあとの問いに答えなさい（地図の縮尺は同一ではありません）。

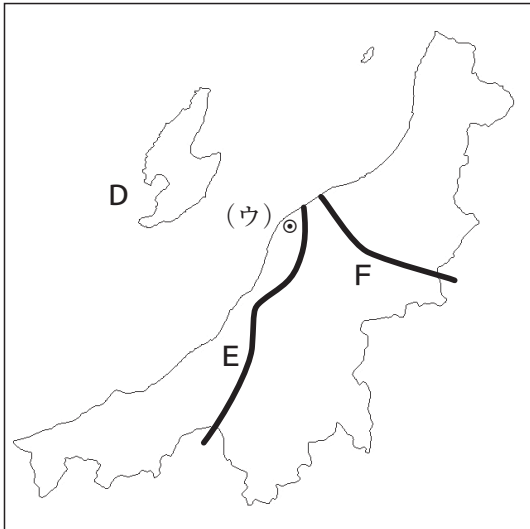
【地図1】



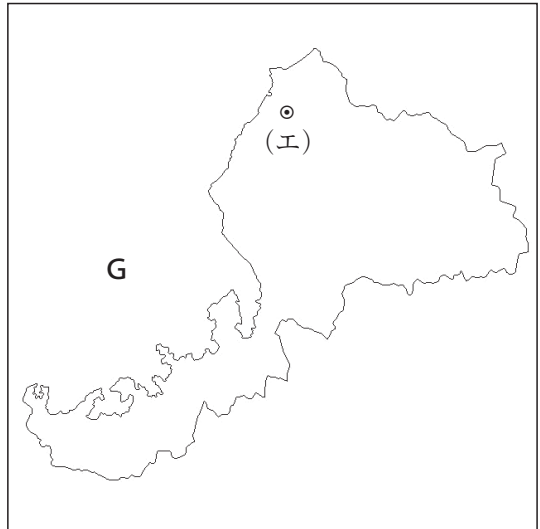
【地図2】



【地図3】



【地図4】



問1 【地図1】～【地図4】中の(ア)～(エ)で示された都市はそれぞれの県の県庁所在地です。県名と県庁所在地名が異なるものを、地図中の(ア)～(エ)の中からひとつ選んで記号で答えなさい。また、その県庁所在地名を漢字で答えなさい。

問2 北陸地方には、古くから受け継がれてきた技術や地元でとれる原材料などをむすびつけ、古くから発達してきた伝統的工芸品が数多くあります。生産地【地図1】～【地図4】と工芸品の組み合わせとして正しいものを、次の(ア)～(エ)の中からひとつ選んで記号で答えなさい。

- (ア) 【地図1】— 久留米^{く り め が す り}絨 (イ) 【地図2】— 加賀友禪
(ウ) 【地図3】— 九谷焼 (エ) 【地図4】— 越前漆器

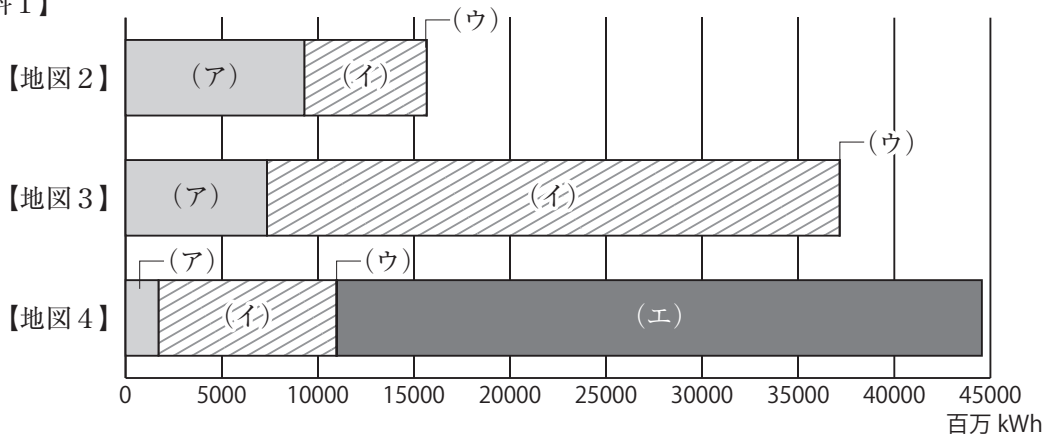
問3 【地図1】【地図2】【地図3】中のA・C・Eについて、それぞれの説明の文a～cのうち、正しいものの組み合わせとして最も適当なものを、次の(ア)～(キ)の中からひとつ選んで記号で答えなさい。

- a Aの半島では、有名な伝統工芸品が多数存在するが、令和6年能登半島地震により大きな被害を受けた。
b Cの山脈は、【地図2】【地図3】、岐阜県、長野県にまたがって連なる山脈で、北アルプスの通称でよばれている。
c Eの河川は、長野県と【地図3】を流れ、日本の河川の中で最大の流域面積を誇る河川である。

- (ア) a (イ) b (ウ) c (エ) aとb
(オ) aとc (カ) bとc (キ) aとbとc

問4 次の【資料1】は、【地図2】【地図3】【地図4】の県の発電方式について示しており（2021年度）、【資料1】中の（ア）～（エ）は、火力、原子力、水力、太陽光のいずれかを示しています。原子力を表しているものを、次の（ア）～（エ）の中からひとつ選んで記号で答えなさい。

【資料1】



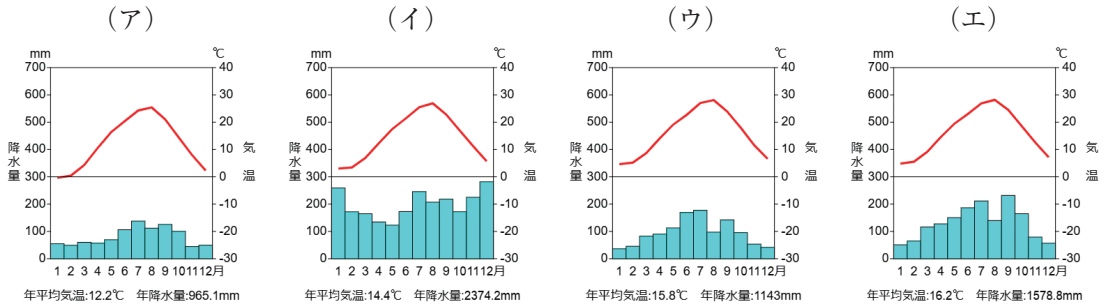
（『データでみる県勢』より作成）

問5 1960年代の高度経済成長期に、住民の健康が害される四大公害病が発生し、【地図2】【地図3】中の河川B・Fはその発生場所となりました。河川B・Fに関する公害についての説明として当てはまるものを、次の（ア）～（エ）の中からひとつ選んで記号で答えなさい。

- （ア）河川Bの流域では、化学工場から流された水に、有機水銀という毒物が混ざっていて、魚にその毒が取りこまれ、その魚を食べた人の体がむしばまれた。
- （イ）河川Bの流域では、^{こうせき}鉱石をとる際に出る排水にカドミウムという金属が混じり、その水が川に流れこみ、下流でとれた米を食べた人が、骨がもろくなって強い痛みが出る^{しょうじょう}症状におかされた。
- （ウ）河川Fの流域では、石油化学工場などから出るけむりで大気が汚染され、ぜんそくの症状で苦しむ人が多数発生した。
- （エ）河川Fの流域では、石油化学工場などから出るけむりで大気が汚染され、アスベストといわれる肺がんの原因物質で苦しむ人が多数発生した。

問6 次の【資料2】は、【地図2】中の県庁所在地、長野、岡山、名古屋の月別平均気温と降水量を示したものです。【地図2】中の県庁所在地のグラフを、次の(ア)～(エ)の中からひとつ選んで記号で答えなさい。

【資料2】

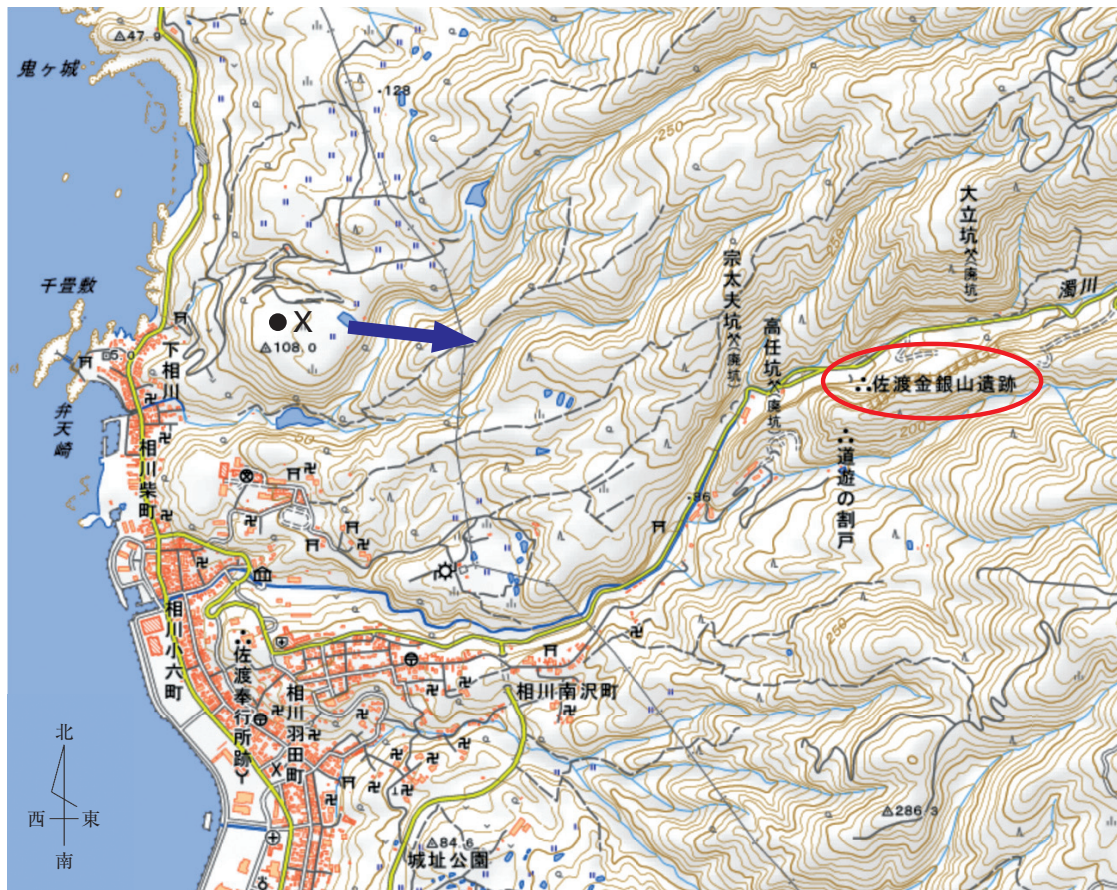


問7 【地図3】中のDの佐渡島にある金銀山は、2024年7月に世界文化遺産への登録がきました。次の①・②のそれぞれの問いに答えなさい。

- ① 「世界遺産」の登録や保護の支援などをおこなう国連の専門機関の名称を、カタカナで答えなさい。

- ② 次の【地図5】は、佐渡金銀山遺跡の周辺の地形図です。【地図5】から読み取れることとして正しいものを、次の(ア)～(エ)の中からひとつ選んで記号で答えなさい。

【地図5】



- (ア) 農業が盛んにおこなわれており、地図の北西の地域では特に畑が広く広がっている様子がわかる。
- (イ) 地図上では発電所は確認できず、電力は地図外の地域から送電線による供給を受けている様子がわかる。
- (ウ) 地図上のXの地点に立ち、矢印の方角を眺めると、佐渡金銀山遺跡を見下ろすことができる。
- (エ) 濁川の河口部に集落が形成され、学校や病院、郵便局などの施設が集まっている様子がわかる。

[2] 21世紀に入ってからでも人の争いは絶えません。ウクライナやガザでの争いがまだ続いています(2024年10月現在)。次の争い・戦争に関する文章Ⅰ～Ⅴを読んで、あとの問いに答えなさい。

- Ⅰ 日本は当時、唐と手を結んだ と朝鮮半島をめぐる争い、日本軍は大敗した。その後、中大兄皇子は半島から手を引き、(A) 国内政治に専念した。
- Ⅱ 桓武天皇は、坂上田村麻呂を征夷大將軍に任命して、東北地方の の征討にあたらせた。
- Ⅲ 執権 の時に、元は2度にわたって攻め込んできた。しかし(B) 御家人たちの奮闘のおかげで、幕府軍は2度の争いに勝利した。
- Ⅳ 豊臣秀吉は海外との交渉も積極的に行い、海外に行く船に(C) 許可状を渡し、おもに東南アジアとの貿易を推進した。一方、2度にわたる朝鮮出兵を行い、朝鮮との関係を悪化させた。
- Ⅴ 日本は遼東半島を手に入れると、(D) ロシアがドイツ・フランスをさそって、その半島を清に返すようにせまった。その要求に従った日本は、ロシアとの戦争に備え、ついに1904年にロシアと衝突した。

問1 文章Ⅰの空らん に当てはまる国名を、答えなさい。

問2 下線部(A)に関して、中大兄皇子が主導した政治について誤っているものを、次の(ア)～(エ)の中からひとつ選んで記号で答えなさい。

- (ア) 中大兄皇子は中国を手本とした天皇中心の国をつくるために、645年に蘇我氏を倒した。
- (イ) 天皇中心の国家体制を作るために全国に行政区画を整えて、地方の国に中央から郡司を派遣した。
- (ウ) 667年に都を大津宮に移して、皇子は即位し、天智天皇となった。
- (エ) 班田収授を実施するために、初めて全国的な戸籍である^{こうごねんじやく}庚午年籍を作成した。

問3 文章Ⅱの空らん に当てはまる語句を答えなさい。

問4 下記の【史料】は、桓武天皇に良い政治とはどうあるべきかについて話し合いをさせた場面が示されています。下記の()には桓武天皇の2大事業の一つが入ります。()に当てはまる事業内容を、次の(ア)～(エ)の中からひとつ選んで記号で答えなさい。

【史料】

延暦24年12月7日、中納言の藤原内麻呂が内裏にひかえていると、桓武天皇はともに参議であった藤原^{おつぐ}緒嗣と菅野^{まみち}真道とお召しになり、よい政治はどうあるべきかについて意見を出させた。ここで緒嗣は「ただ今、天下の人々が苦しんでいるのは、東北地方への出兵と()です。この両方を中止すれば人々は安らかになれるでしょう。」と。

- (ア) 平安京の造営
- (イ) ^{かいこん しょうれい}開墾の奨励
- (ウ) 遣唐使の派遣
- (エ) 税制の改革

問5 文章Ⅲの空らん **Z** に当てはまる人物名を、次の(ア)～(エ)の中からひとつ選んで記号で答えなさい。


(ア) 北条時頼 (イ) 北条泰時 (ウ) 北条時宗 (エ) 北条義時

問6 下線部(B)に関して、この2度の戦いに奮闘した御家人らは、のちに幕府に対して不満をもち、幕府は永仁の徳政令を出しました。幕府が徳政令を出すに至った「御家人の不満」の理由を説明しなさい。

問7 下線部(C)の許可状を何というか、漢字3字で答えなさい。

問8 下線部(D)に関して、この出来事を何というか答えなさい。

問9 文章Vに関して、下記は日露戦争前の様子をえがいた風刺画です。日本はロシアとの戦争に備えて、日本に有利な国際関係を戦前に築きました。風刺画に関して述べた文 a・b についての正誤を判断し、その組み合わせとして正しいものを、次の (ア) ~ (エ) の中からひとつ選んで記号で答えなさい。



- a ロシア人が焼く栗（ドイツ）を、イギリス人にそそのかされた日本人が、取りに行こうとしている。
- b 日本人をあおっているイギリス人の様子を、フランス人が後ろからうかがっている。

(ア) a : 正 b : 正 (イ) a : 正 b : 誤
(ウ) a : 誤 b : 正 (エ) a : 誤 b : 誤

[3] 次の文章は、吉田文和『政治のキホン 100』（岩波新書）より抜粋したものです。これを読んで、あとの問いに答えなさい。

新聞、テレビ、ネットでは、日々(A) 政治をめぐるニュースや話題が取り上げられています。でも、改めて「政治とは？」と聞かれると考え込んでしまいますね。首相演説や国会中継などを思い浮かべて、自分とは遠く感じるかもしれません。しかし、実はあなた自身が生活のいろいろな場面で政治を体験しているのです。そうすぐ身の回りで。例えば、生徒会も政治のひとつの姿です。政治を発見するポイントは？そこに2人以上の人間が集まっているという点です。

(中略)

政治学の始祖とされるギリシャの哲学者アリストテレスは、「人間は政治的動物である」と言っています。この見方の根っこには、人間が集まれば、そこに政治が生まれるという考えが隠されているのです。

(中略)

(B) 市町村や都道府県の地方政治。(C) 国会や中央政府で繰り広げられる国内政治。(D) 国同士の外交や国連のような国際政治。関わる人数が増えれば関係はどんどん複雑になります。それをまとめていくのがどれだけ難しいか。政治の舞台の大きさで、政治の中身は変化します。

政治を切り取る視点は規模だけではありません。国会や政府のような組織から、あるいは選挙や税金のような制度から考えることもできます。政治家と(E) 有権者のように人間にこだわる見方もあります。この本ではいろいろな角度から政治をのぞいてみましょう。

問1 下線部（A）に関して、政治に関する文として誤っているものを、次の（ア）～（エ）の中からひとつ選んで記号で答えなさい。

- （ア）支配者の思いのままに、政治を行い国民の意見を無視する政治を立憲君主制という。
- （イ）一人または少数の者に政治権力が集中する、第二次世界大戦のナチス体制に見られるような政治を独裁政治という。
- （ウ）アメリカ南北戦争時にリンカーンが唱えた「人民の、人民による、人民のための政治」は民主政治の基礎となっている。
- （エ）議会で多数を占める政党が与党として内閣を組織する政治を政党政治という。

問2 下線部（B）に関して、次の①・②のそれぞれの問いに答えなさい。

① 日本の地方政治に関する a～c の説明のうち、正しいものの組み合わせとして適切なものを、次の（ア）～（キ）の中からひとつ選んで記号で答えなさい。

- a 地方公共団体の首長は、住民の直接選挙によって選ばれる。
- b 地方公共団体の議決機関である議会は、一院制である。
- c 日本国憲法では、住民が自分たちの住む地域を自らの手で治める地方自治を認めている。

- （ア） a （イ） b （ウ） c （エ） a と b
- （オ） a と c （カ） b と c （キ） a と b と c

② 本来は住んでいる自治体に納めるはずの税金を、任意の自治体に寄付することで、住民税や所得税が寄付額分、差し引かれる制度を何というか答えなさい。

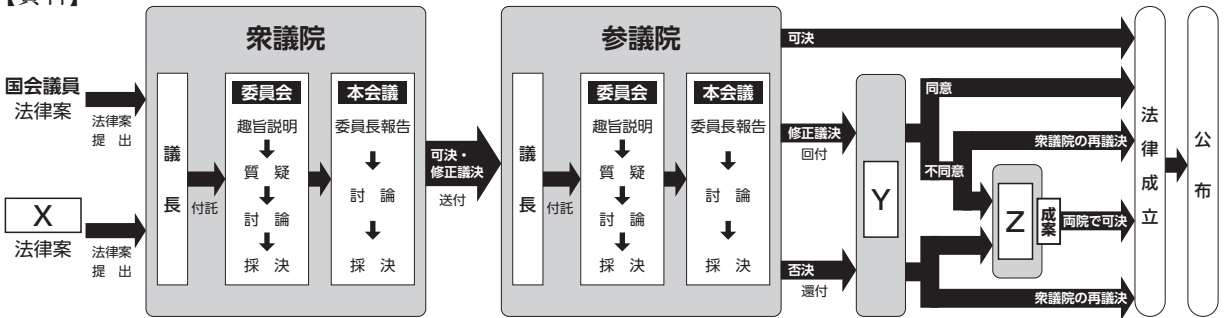
問3 下線部(C)に関して、次の①～③のそれぞれの問いに答えなさい。

① 衆議院と参議院について文章として正しいものを、次の(ア)～(エ)の中からひとつ選んで記号で答えなさい。

- (ア) 衆議院の任期は4年で、小選挙区比例代表並立制で選挙が行われる。
- (イ) 衆議院の任期は6年で、小選挙区比例代表並立制で選挙が行われる。
- (ウ) 参議院の任期は4年で、小選挙区比例代表並立制で選挙が行われる。
- (エ) 参議院の任期は6年で、小選挙区比例代表並立制で選挙が行われる。

② 下の【資料】は法律ができるまでを表したものです。 ・ ・ に入る組み合わせとして正しいものを、次の(ア)～(ク)の中からひとつ選んで記号で答えなさい。

【資料】



(図は、衆議院が先に審議を行った場合の流れです。参議院から審議が始まる場合もあります。)

(参議院キッズページより)

- (ア) : 内閣 : 参議院 : 閣議
- (イ) : 内閣 : 参議院 : 両院協議会
- (ウ) : 内閣 : 衆議院 : 閣議
- (エ) : 内閣 : 衆議院 : 両院協議会
- (オ) : 皇室 : 参議院 : 閣議
- (カ) : 皇室 : 参議院 : 両院協議会
- (キ) : 皇室 : 衆議院 : 閣議
- (ク) : 皇室 : 衆議院 : 両院協議会

- ③ 本会議で審議^{しんぎ}される以前に委員会で審議を行います。委員会では、議案に関係の深い人物を呼んで意見を聞くことができます。この仕組みを何というか答えなさい。

問4 下線部(D)に関して、次の①・②のそれぞれの問いに答えなさい。

- ① 国際連盟と国際連合について述べた文章として誤っているものを、次の(ア)～(エ)の中からひとつ選んで記号で答えなさい。

- (ア) 国際連盟は1920年に結成されたが、結成を提案したアメリカは加盟していなかった。
(イ) 国際連合は1945年に結成され、日本も1956年に加盟を果たしている。
(ウ) 国際連盟・国際連合ともに総会という審議機関が存在する。
(エ) 国際連盟・国際連合ともに経済制裁・武力制裁が可能である。

- ② 国際連合には世界の平和と安全を維持する機関として安全保障理事会が存在します。常任理事国として誤っているものを、次の(ア)～(エ)の中からひとつ選んで記号で答えなさい。

- (ア) フランス (イ) アメリカ (ウ) ロシア (エ) ドイツ

問5 下線部(E)に関して、有権者とは一般的に選挙権を持っている人を指します。現在、日本において選挙権が与えられている年齢として正しいものを、次の(ア)～(エ)の中からひとつ選んで記号で答えなさい。

- (ア) 16歳 (イ) 18歳 (ウ) 20歳 (エ) 25歳

[4] 歴史の一面を見ると我々是对立と協調を繰り返しながら社会を形成しています。16世紀半ば頃の日本は国内の対立が激化し戦国の世となっていました。次の資料を読み、あとの問いに答えなさい。

資料A

一 ^{するが}駿河・^{とおとうみ}遠江の今川氏の家臣の者は、自分かつてによその国から^{よめ}嫁をとったり、または^{むこ}婿をとったり、娘を嫁にやったりすることを、今後はしてはいけない。

資料B

一 当家の城以外、国内に城を建ててはいけない。有力な家臣の者は、すべて^{じょうか}城下に移り、自分の領地には代官をおくだけにせよ。

問1 上記の資料A、Bは戦国大名が自分の領国を支配するために定めた法です。この法を総称して何というか、漢字3字で答えなさい。

問2 上記の資料A、Bのどちらかを選び、戦国大名がその法を出した目的を考えなさい。その際、もしその法がなかったらどのようになると考えられるか。自分が戦国大名になったつもりで考察しなさい。

