

2025 年度（令和7年度）

横浜女学院中学校

A 入学試験問題

令和7年2月1日(午前)

社 会

注 意

- 1 指示があるまで開けないでください。
- 2 問題は、15 ページあります。
- 3 解答はすべて解答用紙に記入しなさい。
- 4 試験所要時間は 30 分です。

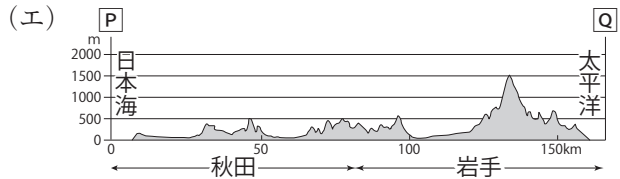
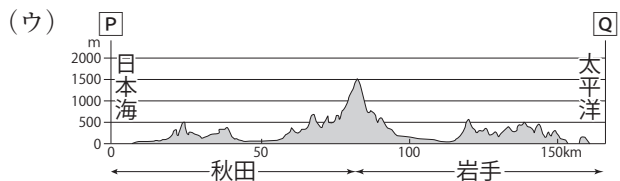
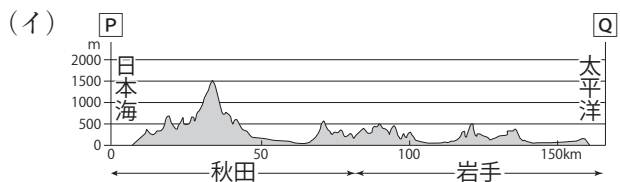
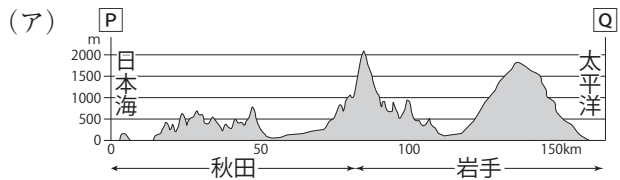
受験番号	氏 名
------	-----

[1] 横浜女学院では、宮城県の鳴子の木で作ったイスと机を使用しています。その縁から、木を実際に伐採し、加工されていく流れを見学し、無駄のない木材の利用について考える鳴子のスタディツアーをおこなっています。愛さんと誠さんは、この鳴子のスタディツアーに参加することになりました。これに関するあとの問いに答えなさい。

問1 愛さんは、鳴子スタディツアーに参加するにあたり、事前に東北地方について調べました。次の①～③のそれぞれの問いに答えなさい。

① 愛さんは東北地方に連なるいくつかの山脈に着目しました。【地図1】中のP-Qの断面図として正しいものを、次の(ア)～(エ)の中からひとつ選んで記号で答えなさい。

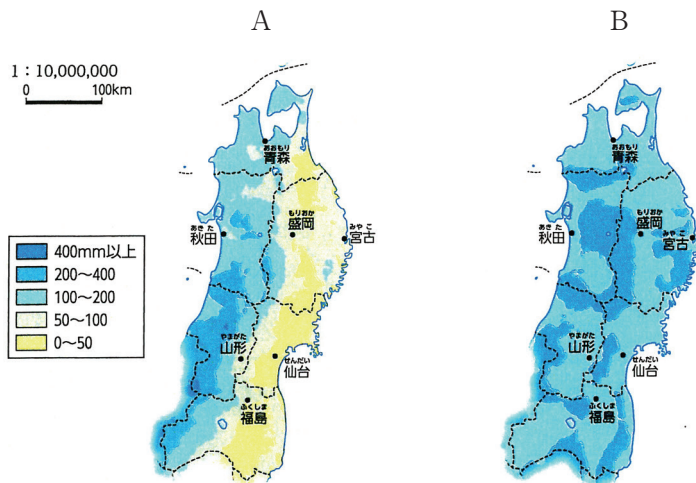
【地図1】



(帝国書院『中学校社会科全図』より作成)

- ② 【地図2】のA・Bは1月と8月における東北地方の降水量を表したものです。この【地図2】を見て、その特徴を愛さんは次のように文章でまとめました。文章中の空らん ～ に当てはまる語句の組み合わせとして正しいものを、下の(ア)～(ク)の中からひとつ選んで記号で答えなさい。

【地図2】



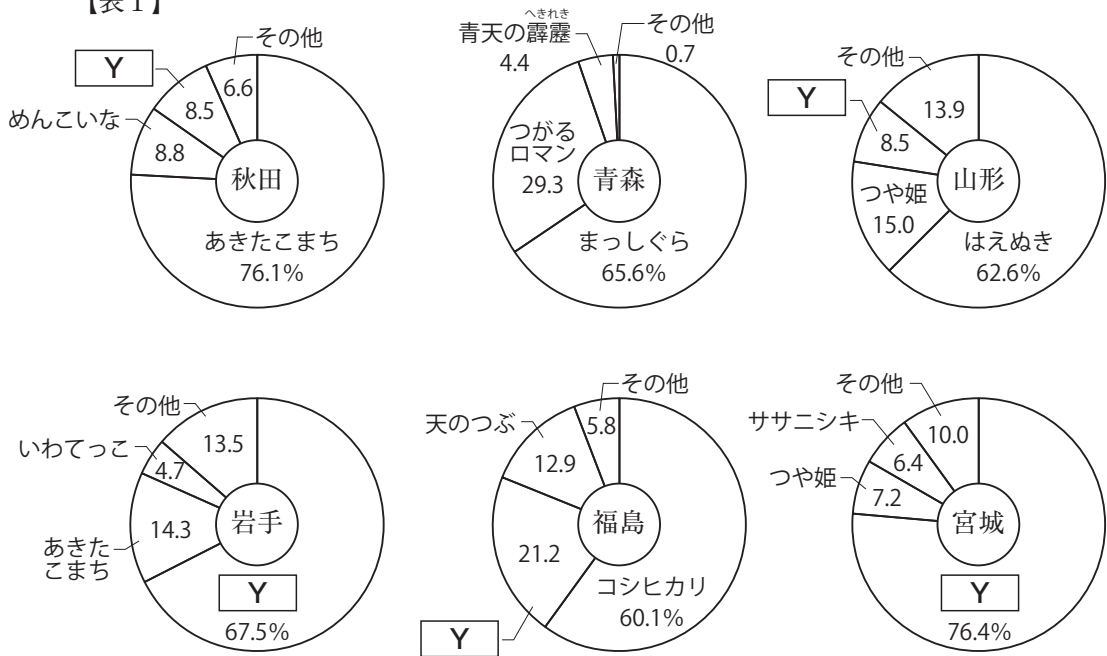
(帝国書院「中学校社会科地図」)

【地図2】のAは 月の降水量を表したものです。季節風は、山にぶつかり上昇すると冷やされ、雨や雪を降らせ、その後、風下側では乾燥した風となります。
 に からふく季節風の影響を受け、太平洋側の降水量が少なくなります。

- | | | | |
|-----|------------------------------------|------------------------------------|-------------------------------------|
| (ア) | <input type="text" value="X"/> : 1 | <input type="text" value="Y"/> : 夏 | <input type="text" value="Z"/> : 北西 |
| (イ) | <input type="text" value="X"/> : 1 | <input type="text" value="Y"/> : 夏 | <input type="text" value="Z"/> : 南東 |
| (ウ) | <input type="text" value="X"/> : 1 | <input type="text" value="Y"/> : 冬 | <input type="text" value="Z"/> : 北西 |
| (エ) | <input type="text" value="X"/> : 1 | <input type="text" value="Y"/> : 冬 | <input type="text" value="Z"/> : 南東 |
| (オ) | <input type="text" value="X"/> : 8 | <input type="text" value="Y"/> : 夏 | <input type="text" value="Z"/> : 北西 |
| (カ) | <input type="text" value="X"/> : 8 | <input type="text" value="Y"/> : 夏 | <input type="text" value="Z"/> : 南東 |
| (キ) | <input type="text" value="X"/> : 8 | <input type="text" value="Y"/> : 冬 | <input type="text" value="Z"/> : 北西 |
| (ク) | <input type="text" value="X"/> : 8 | <input type="text" value="Y"/> : 冬 | <input type="text" value="Z"/> : 南東 |

- ③ 次の【表1】は、東北地方の銘柄米の品種内訳を示したものです。この【表1】を見て、その特徴を愛さんは次のように文章でまとめました。文章中の空らん ・ に当てはまる語句を答えなさい（表の中の と文章中の には同じ語句が入ります）。

【表1】



(米穀安定供給確保支援機構資料 (2018) より)

は、春から秋に吹く、冷たく湿った北東風または東風のことで、とくに梅雨明け後に吹く冷風をさすことが多いです。 は、北海道・東北・関東地方の太平洋側に吹きつけ、海上と沿岸付近、海に面した平野に濃霧を発生させます。1993年は大冷害で記録的な米の大凶作となりました。冷害で育たなかったササニシキに代わるものとして登場したのが です。【表1】のように東北地方の多くで栽培され、栽培しやすいことから、北は東北地方、南は沖縄県まで広く栽培され、コシヒカリに次いで2位の品種別収穫量*となっています。

*令和4年産水稲の品種別作付動向 (米穀機構)

問2 誠さんは、鳴子スタディツアーに参加し、気づいたことについて調べました。次の

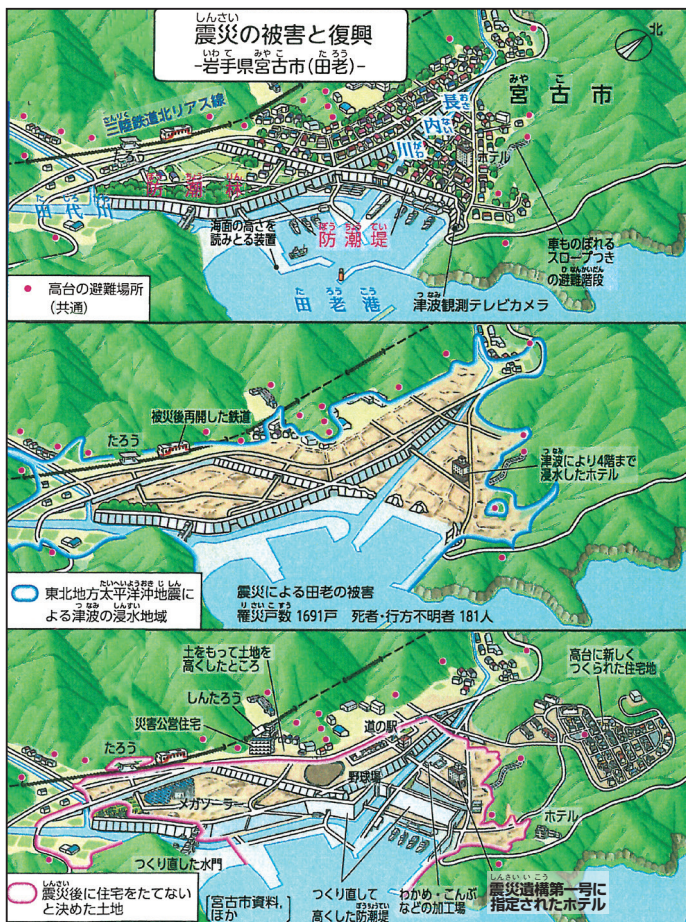
①～④のそれぞれの問いに答えなさい。

① 鳴子温泉で見かけた鳴子の伝統的工芸品である「鳴子こけし」に興味を持ち、全国の伝統的工芸品について調べました。東北地方の伝統的工芸品として正しいものを、次の（ア）～（エ）の中からひとつ選んで記号で答えなさい。

（ア）小千谷ちぢみ （イ）有田焼 （ウ）南部鉄器 （エ）美濃和紙

- ② 誠さんは、スタディツアーで訪れた仙台市立荒浜小学校で、東日本大震災の被害の大きさを目の当たりにし、防災について、また復興に向けての取り組みについて調べました。次の【資料1】から読み取れる文X～Zについて、正しいものの組み合わせとして最も適当なものを、下の(ア)～(キ)の中からひとつ選んで記号で答えなさい。

【資料1】



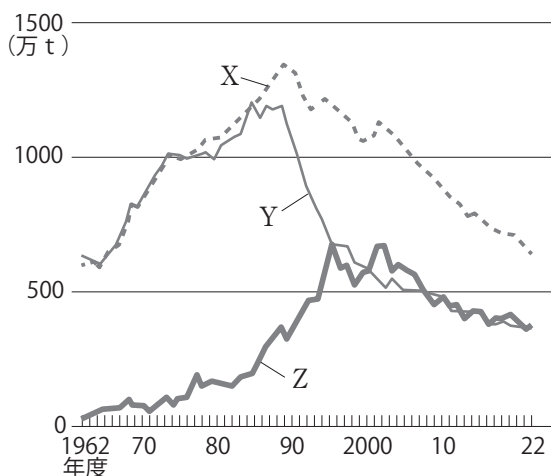
(帝国書院『中学校社会科地図』)

- X 津波の浸水地域のほとんどは、震災後に以前と同じように住宅を建てて住民が戻りつつある。
- Y 被災した防^{ぼう}潮^{ちゆう}堤^{てい}や水門は、震災後につくり直す工事が行われた。
- Z 津波の教訓を風化させないために、震災遺構^{いこう}の指定などの取り組みが行われている。

- (ア) X (イ) Y (ウ) Z (エ) XとY
- (オ) XとZ (カ) YとZ (キ) XとYとZ

③ 誠さんは、東北地方の漁業について調べているうちに日本の漁業について示した【資料2】を見つけました。資料のそれぞれの線X～Zが何を示しているのかわからなかった誠さんは、線の推移の理由について先生に聞き、説明1～3をしてもらいました。

【資料2】



※国内消費仕向量は、国内で消費に回された食料の量で、飼肥料などをふくんでいます。

(矢野恒太記念会「日本国勢図会」ジュニア版『日本のすがた2024』)

説明1：200海里の規制が始まった1970年代後半から、日本の水産物の輸入量は増えた

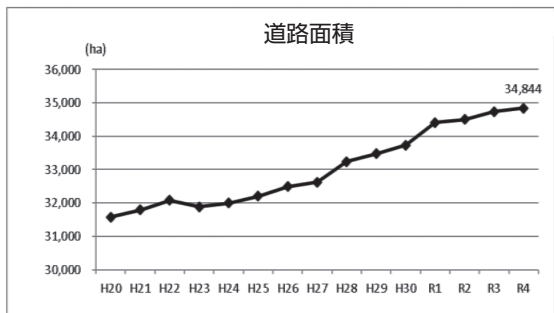
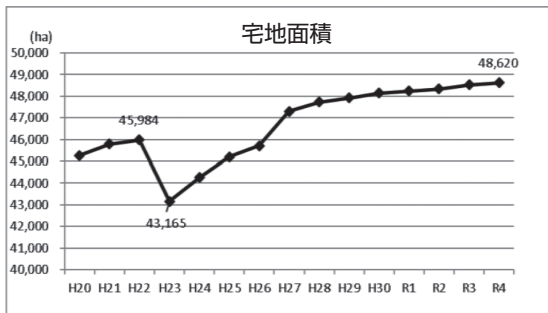
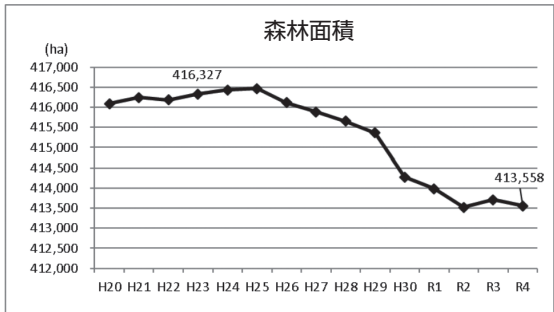
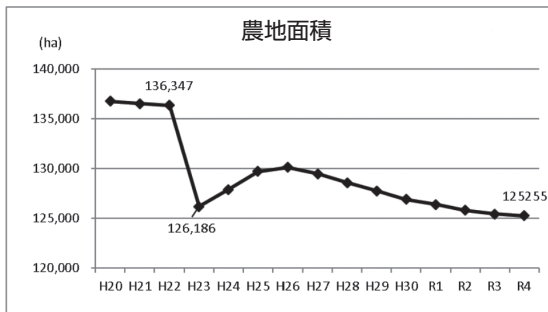
説明2：沖合漁業の漁獲量が減ると、輸入がさらに増えて、日本は世界各国から水産物を大量に輸入するようになった

説明3：その後、日本人の魚の消費量が減り、輸入は減少する

【資料2】の中の線X～Zがあらわしているものの組合せとして正しいものを、次の(ア)～(カ)の中からひとつ選んで記号で答えなさい。

- | | | |
|---------------|-----------|-----------|
| (ア) X：国内生産量 | Y：輸入量 | Z：国内消費仕向量 |
| (イ) X：国内生産量 | Y：国内消費仕向量 | Z：輸入量 |
| (ウ) X：輸入量 | Y：国内消費仕向量 | Z：国内生産量 |
| (エ) X：輸入量 | Y：国内生産量 | Z：国内消費仕向量 |
| (オ) X：国内消費仕向量 | Y：国内生産量 | Z：輸入量 |
| (カ) X：国内消費仕向量 | Y：輸入量 | Z：国内生産量 |

- ④ 誠さんは、宮城県全体の土地利用についても興味を持ち、宮城県企画部地域振興課^{しんこうか}が作成した土地利用の現況と施策の概要（令和5年12月）の資料をみつけました。これらの資料が示す「農地面積」「森林面積」「宅地面積」「道路面積」について述べた文として正しいものを、次の（ア）～（エ）の中からひとつ選んで記号で答えなさい。（表の中のHは平成、Rは令和を示しています）



- (ア) 農地面積は、H20に比べR4の方が増加している。
- (イ) 森林面積は、H20から常に減少をし続けている。
- (ウ) 宅地面積は、H23を除き、減少した年はない。
- (エ) 道路面積は、H20から常に増加をし続けている。

問3 鳴子スタディツアーは東京駅に集合し、東北新幹線で仙台駅の一つ先の古川駅まで乗車します。その際、新幹線で通過する河川を、次の（ア）～（カ）の中から2つ選んで、通過する順番に記号を並べかえて答えなさい。

- (ア) 天竜川 (イ) 利根川 (ウ) 阿武隈川
- (エ) 信濃川 (オ) 多摩川 (カ) 石狩川

[2] 2023年の日本のジェンダーギャップ指数（男女格差指数）は過去最低の世界第125位でした。特に政治の世界ではまだまだ女性の進出が遅れていますが、日本の歴史上で活躍した女性は多くいます。女性に関する文章Ⅰ～Ⅴを読んで、あとの問いに答えなさい。

- Ⅰ (A) 中国の歴史書によると、3世紀に邪馬台国の女王卑弥呼が(B) 中国に使いを送ったことが示されている。
- Ⅱ (C) 平安時代では藤原氏が自分の娘を天皇に嫁がせるときに、優秀な女性をつけたので、宮中では女性が文学の才能を発揮させ、(D) 女流文学が誕生した。
- Ⅲ (E) 8代将軍足利義政の妻日野富子は、将軍後継者問題に介入したと言われ、守護大名の勢力争いもからみ、1467年に の乱がおこった。
- Ⅳ (F) 安土桃山時代には、当時の気風を反映した絢爛豪華な文化が栄えた。出雲出身と言われる の歌舞伎踊りは庶民の間で人気となり、のちに歌舞伎として発展した。
- Ⅴ 1904年にはじまった日露戦争では、(G) 女性の立場、キリスト教徒の立場、労働者の立場から強く戦争に反対する人々がいた。

問1 下線部(A)の歴史書名を答えなさい。

問2 下線部(B)に関して、下線部(A)の歴史書によると、卑弥呼は239年に当時の中国王朝に貢物を贈ったが、その返礼としておこなわれたことを、次の(ア)～(エ)の中からひとつ選んで記号で答えなさい。

(ア) 皇帝から「親魏倭王」の称号と銅鏡などを授けられた。

(イ) 皇帝から「日本国王源道義」の称号が与えられ、朝貢外交がおこなわれた。

(ウ) 皇帝から「安東大將軍」の称号が与えられ、軍事的地位を向上させた。

(エ) 皇帝から「漢委奴国王」の称号が与えられ、のちにこの称号がほられた金印が発見された。

問3 下線部 (C) に関して、藤原氏の全盛をきずいた藤原頼通が建立した寺院を、次の (ア) ~ (エ) の中からひとつ選んで記号で答えなさい。



(ア)



(イ)



(ウ)



(エ)

問4 下線部 (D) に関して、下記の【史料】の作者の名前を答えなさい。

【史料】

春はあけぼの。やうやうしろくなりゆく山ぎは、すこし^あ明かりて^{むらさき}紫だちたる雲の
細くたなびきたる。…

問5 下線部（E）に関して、8代将軍足利義政の在任期間の文化として正しいものを、次の（ア）～（エ）の中からひとつ選んで記号で答えなさい。

（ア）千利休は明に留学をして、茶の湯を完成させた。

（イ）慈照寺銀閣は、日本の住宅建築の源である寝殿造の建築様式である。

（ウ）雪舟は明に留学し、帰国後、日本の風景をたくみに表現した水墨画を描いた。

（エ）「一寸法師」や「ものぐさ太郎」などの物語をあつめた浮世草子^{うきよぞうし}が庶民の間で人気となった。

問6 文章Ⅲの空らん に当てはまる語句を答えなさい。

問7 下線部（F）に関して、織田信長は、キリスト教を保護しましたが、それはなぜですか。その理由として考えられることを答えなさい。

問8 文章Ⅳの空らん に当てはまる人物名を答えなさい。

問9 下線部（G）に関して述べた文 a・b についての正誤を判断し、その組み合わせとして正しいものを、次の（ア）～（エ）の中からひとつ選んで記号で答えなさい。

a 「君死にたもうことなかれ」という詩を書き、戦争では社会的立場の弱い労働者が犠牲^{ぎせい}になるとして社会主義の立場から戦争に反対している。

b 内村鑑三はキリスト教徒の立場から人類愛を説き、戦争に反対している。

（ア） a：正 b：正 （イ） a：正 b：誤

（ウ） a：誤 b：正 （エ） a：誤 b：誤

[3] 次の文章は、井出留美『ちくまQブックス 時代の食べ方 世界が飢えるのはなぜ?』(筑摩書房)より抜粋したものです。これを読んで、あとの問いに答えなさい。

地球上には世界の全人口にあたる78億人のお腹を満たすのに十分な食料が生産されているにもかかわらず、(A) 新型コロナウイルスが世界中に広がる前で、すでに6億9000万人もの人が飢えています。なぜ飢餓や飢饉が起ころのでしょうか。この飢餓人口の数字は、2020年からのコロナ禍でさらに2億人以上増えたと推察されています。

『人口論』という本を書いたマルサスは、人口が増え、食料の生産が追い付かずに、飢餓が増えると主張しました。食料供給の不足が飢餓の要因だと言ったのです。

これに対し、ノーベル経済学賞を受賞したインドの経済学者、アマルティア・センは、飢餓の要因は食料不足だけではなく、食料を入手する(B) 権利や能力がないためだと指摘しました。世の中の不平等が飢餓をもたらしているというのです。物理的に食料が足りていたとしても、流通している食料を手に入れるためには(C) お金が必要です。お金のない貧しい人は食料を手に入れられないのです。

(D) 紛争が起きている地域では、人々は、食料のあるところまで行くことができません。たとえ食料が十分にあったとしても、世界に貧困や紛争がある限り、飢餓はなくなる ないのです。 は、貧困や紛争をなくすことを目指していますが、解決するのがとても難しい、大きな問題です。

では、私たちにはなにもできないのでしょうか?そんなことはありません。その一つが食品ロスを減らすことです。食べられるのに捨てる食品は、世界の食品生産量の3分の1(13億トン)にものぼります。

日本では年間600万トンの食品ロスを出しています。これは東京都民1400万人が1年間に食べている量に匹敵ひつてきすると言われています。2020年10月にノーベル平和賞を受賞した国連WFP(国際連合世界食糧計画)は、世界で食料を必要とする人たちへ、年間420万トンの食糧を援助しています。ということは、日本では、世界の食料援助量の約1.4倍もの食料を捨てているのです。日本の食料自給率は37%。自国で自給できないので、世界じゅうの国から、たくさんのお金とエネルギーをかけて輸入しています。運んだ食品の重さと距離を掛け合わせて算出する「フードマイレージ」の値も、先進諸国の2~3倍に相当します。それだけ(E) 経済や環境に負担をかけておきながら、結局は捨てている いうのです。

問1 下線部（A）に関して、新型コロナウイルスは、日本でも^{もういふ}猛威を振るい、^{きんきゅうじたい}緊急事態宣言やワクチンの集団接種などが行われました。ワクチンの集団接種は社会保障の公衆衛生に当たります。社会保障の中でも公的扶助に当たるものとして正しいものを、次の（ア）～（エ）の中からひとつ選んで記号で答えなさい。

- （ア） 仕事上のけがが原因で仕事を休まなければいけなくなった時の補償。
- （イ） ある企業が、公害を発生させてしまった時の被害者への補償。
- （ウ） ある事件で、誤って逮捕された時の^{ばいしょうきん}賠償金などの支援。
- （エ） 自分の収入だけでは最低限度の生活が送れない人への生活支援。

問2 下線部（B）に関して、人々の権利を人権と呼びます。人権は、現在の日本でも重要な視点の一つです。次の①・②のそれぞれの問いに答えなさい。

- ① フランスのモンテスキューが『法の精神』の中で主張した、権力の暴走を防ぐために権力をそれぞれの機関に分ける考えを答えなさい。
- ② 女性の人権保護と社会進出^{うなが}を促すために日本では、現在までに様々な法律や制度が制定されています。それらについて述べた文として誤っているものを、次の（ア）～（エ）の中からひとつ選んで記号で答えなさい。

- （ア） 男女の平等な雇用機会や待遇を目指して男女雇用機会均等法が制定されている。
- （イ） 1999年に男女の平等な社会進出を目指した男女共同参画社会基本法が施行された。
- （ウ） 育児・介護による休業は女性のみ^{ゆる}に許された特別休暇である。
- （エ） 日本国憲法第14条では法の下での平等を、24条では両性の本質的平等を保障している。

問3 下線部(C)に関して、次の①～③のそれぞれの問いに答えなさい。

- ① 毎年1回、1月中に召集^{しょうしゅう}され、予算案^{しんぎ}の審議を行う国会として正しいものを、次の(ア)～(エ)の中からひとつ選んで記号で答えなさい。

(ア) 常会 (イ) 特別会 (ウ) 臨時会 (エ) 緊急集会

- ② 所得税には累進課税という特徴があります。このことを述べた文a・bについての正誤を判断し、その組み合わせとして正しいものを、次の(ア)～(エ)の中からひとつ選んで記号で答えなさい。

- a 所得の多いAさんと所得の少ないBさんは、給与をもらった際に、Aさんの方が多くの税額を負担する。ただし、給与以外の条件はAさんとBさんは全て同じとする。
b 所得の多いAさんと所得の少ないBさんは、商品を購入した際に、Aさんの方が多くの税額を負担する。ただし、購入した商品はAさんとBさんは全て同じとする。

(ア) a : 正 b : 正 (イ) a : 正 b : 誤
(ウ) a : 誤 b : 正 (エ) a : 誤 b : 誤

- ③ 日本の財政(2024年11月現在)に関するX～Zの説明のうち、正しいものの組み合わせとして適切なものを、次の(ア)～(キ)の中からひとつ選んで記号で答えなさい。

- X 現在の日本は財政赤字である。
Y 日本の消費税率は現在5%である。
Z 日本の歳出の中で最も多い項目は社会保障費である。

(ア) X (イ) Y (ウ) Z (エ) XとY
(オ) YとZ (カ) XとZ (キ) XとYとZ

問4 下線部(D)に関して、次の①・②のそれぞれの問いに答えなさい。

- ① 世界の平和と安全を維持するために国際連合が存在します。国際連合の本部が置かれている国と都市名の組み合わせとして正しいものを、次の(ア)～(エ)の中からひとつ選んで記号で答えなさい。

(ア) 国：アメリカ 都市：ニューヨーク

(イ) 国：アメリカ 都市：ワシントン

(ウ) 国：スイス 都市：ジュネーブ

(エ) 国：スイス 都市：ローザンヌ

- ② 本の題名・下線部(D)中の には、2019年に国連で採択された「誰一人取り残さない」という理念のもと、「世界の貧困をなくす」「持続可能な世界を実現する」ことを目指した、2030年を達成期限とする17のゴール、169のターゲット、および、その進展を評価するための指針を持つ目標を表すアルファベットが入ります。4文字で答えなさい。

問5 下線部(E)に関して、経済や環境、社会に配慮した消費活動を行うことを何消費と呼ぶか、カタカナ4文字で答えなさい。

[4] 現在、人工知能（AI）は急速に発展し、私たちの生活のさまざまな場面で利用されています。AIは多くの利便性^{りべんせい}を提供しますが、一方で人権に関するさまざまな懸念^{けねん}も生じています。例えば、顔認識技術^{にんしき}は犯人の特定や行方不明者の捜索^{そうさく}に役立ちますが、個人のプライバシーを侵害する恐れもあります。

このように、AIの発展は私たちの社会に大きな影響を与えるため、AIをどのように利用するかについて慎重に考える必要があります。

問1 プライバシーの権利の説明として正しいものを、次の（ア）～（エ）の中からひとつ選んで記号で答えなさい。

- （ア）人が自分の意見や考えを自由に発表する権利
- （イ）健康で文化的な最低限度の生活を営む権利
- （ウ）自分の生活や個人情報を他人から不当に干渉されない権利
- （エ）不当に拘束されない権利

問2 AIを使用することによって、どのような人権侵害が起こる可能性があるか予想しなさい。

問3 問2の状況を防止するために、国はどのような対策を取る必要がありますか。具体的に提案しなさい。

