

2025 年度（令和7年度）

横浜女学院中学校

C 入学試験問題

令和7年2月2日(午前)

社 会

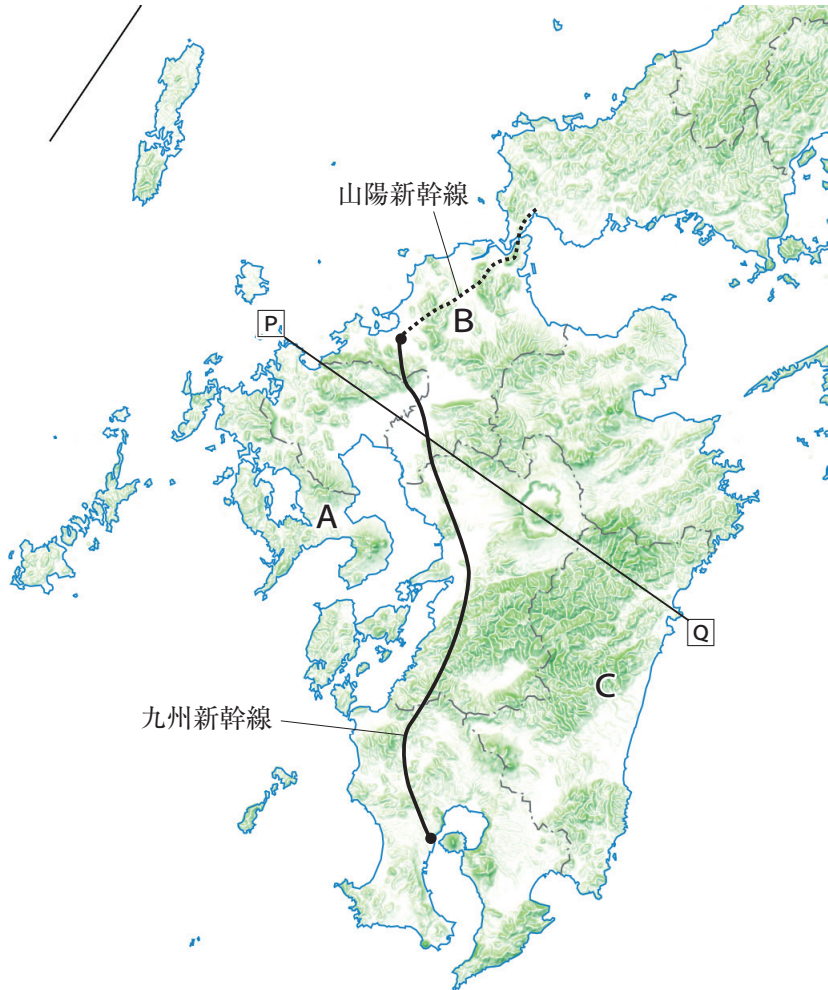
注 意

- 1 指示があるまで開けないでください。
- 2 問題は、14 ページあります。
- 3 解答はすべて解答用紙に記入しなさい。
- 4 試験所要時間は 30 分です。

受験番号	氏 名
------	-----

[1] 横浜女学院では、対馬^{つしま}の文化や歴史、そして現在の対馬が抱えている諸課題を見て、知り、考えるプログラムである対馬のスタディツアーをおこなっています。次の【地図1】は、対馬がある九州地方を示したものです。これに関するあとの問いに答えなさい。

【地図1】



問1 対馬が属するのは、【地図1】中のA～Cのどの県ですか。正しいものをアルファベットで答え、その県の名称を漢字で答えなさい。

問2 【地図1】中のAには、2015年にユネスコの世界文化遺産に登録された【写真1】の島があります。かつて栄えたこの島は、現在は無人島となっています。この島が無人島となった主な理由を、次の(ア)～(エ)の中からひとつ選んで記号で答えなさい。

【写真1】



- (ア) この島の炭鉱が閉山されたため、住民が他の地域に移住し、島が無人となった。
- (イ) この島は、島の所有権をめぐる他国と国際裁判で争い、島からの移動を国から命じられたため。
- (ウ) この島が観光地としての魅力^{みりょく}を失い、観光客が減少したため、住民が他の観光地に移住した。
- (エ) この島が自然災害に見舞われ、住民が安全な場所に避難^{ひなん}したため、無人島となった。

問3 【地図1】中のCで示された県について、次の①～③のそれぞれの問いに答えなさい。

- ① 次の【資料1】は「はくさい」「きゅうり」「ピーマン」の収穫高の多い都道府県（2022年）を表したものです。【資料1】中のX～Zには【地図1】中のCの県、茨城県、鹿児島県のいずれかが当てはまります。X～Zに当てはまる都道府県の組み合わせとしてふさわしいものを、下の（ア）～（カ）の中からひとつ選んで記号で答えなさい。

【資料1】

はくさい			きゅうり			ピーマン		
	t	%		t	%		t	%
X	244100	27.9	Y	64500	11.8	X	33300	22.2
長野	233500	26.7	群馬	55800	10.2	Y	28100	18.7
群馬	27000	3.1	埼玉	44000	8.0	高知	13800	9.2
埼玉	24800	2.8	福島	40500	7.4	Z	13300	8.9
北海道	23500	2.7	千葉	31400	5.7	岩手	8480	5.7
全国	874600	100.0	全国	548600	100.0	全国	150000	100.0

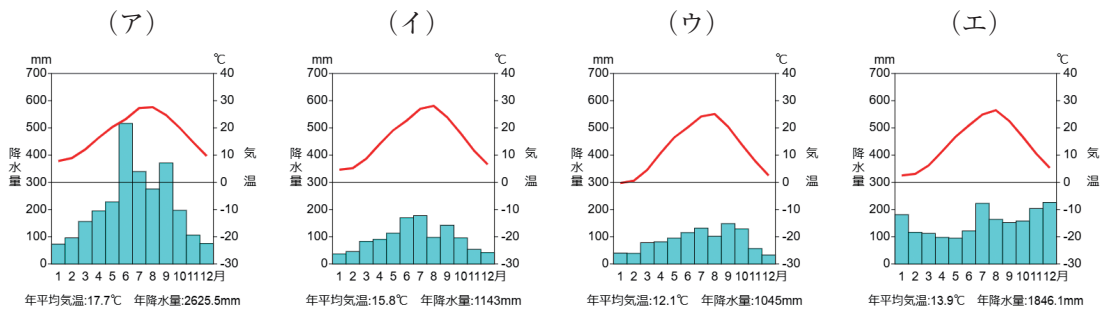
（「日本のすがた2024」より作成）

- （ア） X：Cの県 Y：鹿児島 Z：茨城
 （イ） X：Cの県 Y：茨城 Z：鹿児島
 （ウ） X：鹿児島 Y：茨城 Z：Cの県
 （エ） X：鹿児島 Y：Cの県 Z：茨城
 （オ） X：茨城 Y：Cの県 Z：鹿児島
 （カ） X：茨城 Y：鹿児島 Z：Cの県

- ② Cの県で行われている野菜や果物の収穫時期を早め、出荷時期をずらす農法の名称を何栽培と呼びますか。漢字で答えなさい。

- ③ 次の【資料2】はCの県の県庁所在地、松本市、新潟市、岡山市の月別平均気温と降水量を示したものです。Cの県の県庁所在地のグラフを、次の(ア)～(エ)の中からひとつ選んで記号で答えなさい。

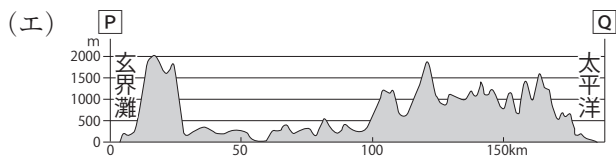
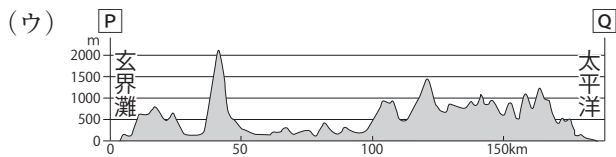
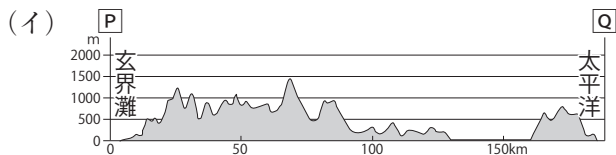
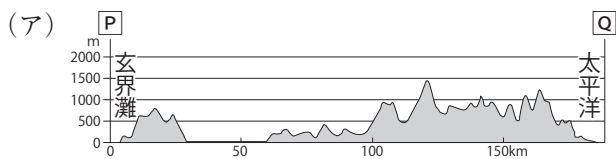
【資料2】



問4 【地図1】中の九州新幹線を利用して北から南へと移動した場合、通過する地形の順番として正しいものを、次の(ア)～(カ)の中からひとつ選んで記号で答えなさい。

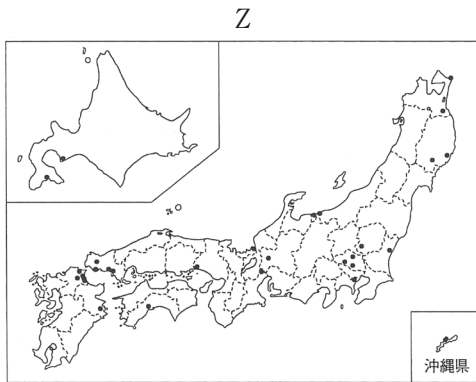
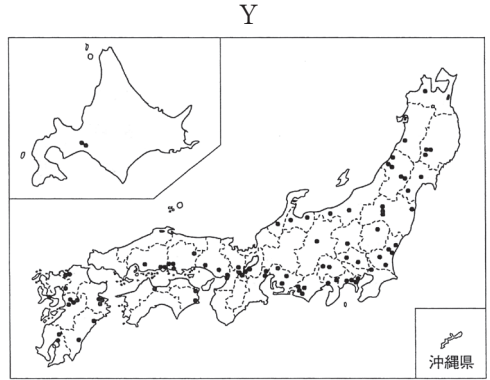
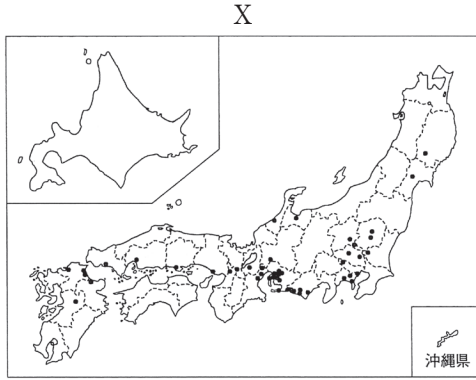
- (ア) 薩摩半島 → 筑紫平野 → 球磨川
 (イ) 薩摩半島 → 球磨川 → 筑紫平野
 (ウ) 筑紫平野 → 球磨川 → 薩摩半島
 (エ) 筑紫平野 → 薩摩半島 → 球磨川
 (オ) 球磨川 → 薩摩半島 → 筑紫平野
 (カ) 球磨川 → 筑紫平野 → 薩摩半島

問5 【地図1】中のP-Qの断面図として正しいものを、次の(ア)～(エ)の中からひとつ選んで記号で答えなさい。



問6 次のX～Zの地図は、「半導体」「自動車」「セメント」の工場立地を示した地図です。

X～Zの地図が示しているものの組み合わせとしてふさわしいものを、次の(ア)～(カ)の中からひとつ選んで記号で答えなさい。



(『日本のすがた2024』より作成)

- | | | |
|--------------|----------|----------|
| (ア) X : 半導体 | Y : 自動車 | Z : セメント |
| (イ) X : 半導体 | Y : セメント | Z : 自動車 |
| (ウ) X : 自動車 | Y : セメント | Z : 半導体 |
| (エ) X : 自動車 | Y : 半導体 | Z : セメント |
| (オ) X : セメント | Y : 半導体 | Z : 自動車 |
| (カ) X : セメント | Y : 自動車 | Z : 半導体 |

[2] 次の文章Ⅰ～Ⅴは、古代から近代までの庶民の様子^{しよ}がわかる史料の現代語訳です。文章Ⅰ～Ⅴを読んで、あとの問いに答えなさい。

Ⅰ たまたま人として生まれ、また人並みに耕作してきたのに、綿も入っていないぼろ布を肩にまとい、つぶれかけ、たおれかけた家の土間にわらを敷^しいて、父母は枕元^{まくらもと}の方に、妻と子は足元の方に囲むようにいて、嘆^{なげ}き悲しむ。(中略) むちを手にした X がよぶ声が聞こえてくる。こんなにもなすすべがないものなのか、この世の中は。
(「貧窮問答歌」より)

Ⅱ 尾張国の Y ・百姓らが朝廷に裁きを請^こい願^うい訴^うえています。
当国の国守である藤原元命が3年間にわたって不法に責め取った物とその乱暴について31か条にわたって申し述べ、その裁きを願います。
(「尾張国 Y 百姓等解」より)

Ⅲ 一、他所の者を、村人の身元保証人なしに住まわせてはならない
一、(A) 村の共有地と私有地の境界争いは、お金で解決すること
(中略)
一、家を売った者は、100文につき3文ずつ、1貫文につき30文ずつ村に納めなければならない。このきまりに背いた者は官座の構成員から除名される。
(「今堀日吉神社文書」より)

Ⅳ かねてより申しつけられている通り、百姓の間で Z を決めておき、何事につけてもこの Z で、法令に背くような時はもちろん、悪事をなす者がある時にも、早速に報告すること。…
(「徳川禁令考」より)

Ⅴ 富山県中新川郡西水橋町の町民は、ほとんど出かせぎでくらしているが、今年はおかせぎ先の樺太^{からふと}で漁がよくできなかったのも、帰りの旅費もないくらい苦しく、それに加えて、(B) 最近の米のねだんの値上がりによって、生活の苦しさは限界に達した。3日午後7時、漁師町一帯の婦人200名は、海岸に集合して三隊にわかれ、ひとつは漁村の代表者、もう一方は町の代表者、あとのひとつは漁村の米屋や米をもっているものをおそった。…
(「東京朝日新聞」より)

問1 文章Ⅰは、当時の農民の厳しい生活の様子を記録した「貧窮問答歌」という歌です。
この歌がおさめられている書物名を答えなさい。

問2 文章Ⅰ・Ⅱの空らん ・ には、それぞれ律令体制下の地方役人名が入ります。空らん ・ に当てはまる語句の組合せとして正しいものを、次の(ア)～(エ)の中からひとつ選んで記号で答えなさい。

- (ア) : 郡司 : 里長 (イ) : 国司 : 郡司
(ウ) : 里長 : 郡司 (エ) : 里長 : 国司

問3 文章Ⅱが出された頃の出来事のうち誤っているものを、次の(ア)～(エ)の中からひとつ選んで記号で答えなさい。

- (ア) 当時の有力な貴族や寺院は、自分の荘園の税を収めなくてもよい不入の権を持っていた。
(イ) 地方の豪族は都の有力な貴族や寺院に自分の土地を寄進して、その荘官となった。
(ウ) 4年に1度派遣された国司は、その任国で私腹しふくをこやす者もいた。
(エ) この頃の中央政府は藤原氏が実権をもっており、摂関政治が展開されていた。

問4 文章Ⅲは当時の村の掟おきてです。この掟を決めるために村民が集まった会合の名称を答えなさい。

問5 下線部(A)の共有地の名称を答えなさい。

問6 文章Ⅳに関して、幕府や藩は、安定して年貢を徴収できるように、村を通して細かい指示を出すなどしました。また、百姓に隣家数軒りんかすうけんの組を作らせ、互いに監視かんしさせて犯罪を防止したり、年貢の納入に連帯責任を取らせたりしました。文章Ⅳの にはその組の名称が入りますが、 に当てはまる語句を、漢字3字で答えなさい。

問7 文章Ⅳに関して、江戸時代の百姓についての文として誤っているものを、次の(ア)～(エ)の中からひとつ選んで記号で答えなさい。

(ア) 百姓にはできるかぎりの年貢を納めさせるために、個人ではなく村全体に年貢納入の責任を負わせた。

(イ) この頃、戦乱も収まって百姓の生産意欲も高まり、備中ぐわなど農具の改良があった。

(ウ) 宿駅に近い村に住んでいる百姓は、人馬を出す役割も負わされた。

(エ) 百姓たちは自分たちの要求を通すために、貴族に荘園を寄進していた。

問8 文章Ⅴの出来事は、当時の内閣が軍隊まで出して鎮^{ちんあつ}圧しようとし、またその責任をとって総辞職しました。この一連の出来事を何というか、答えなさい。

問9 下線部(B)に関して、当時、米の値段が上昇した理由を、「シベリア」という語句を使用しながら説明しなさい。

[3] 人権を保障するための仕組みに関する文章Ⅰ～Ⅲを読んで、あとの問いに答えなさい。

- Ⅰ (A) 裁判では、被告人の人権を守るために黙秘権^{もくひ}があり、弁護人^{せんじん}を選任^{せんじん}することができる。また、えん罪事件による被害者を生まないために確実^{しやうこ}な証拠^{しやうこ}がなければ罰^{ばつ}せられることはない。
- Ⅱ 日本国憲法第14条には、法の下での平等が規定され、そのため国政選挙では18歳以上のすべての国民に(B) 選挙権が与えられる。
- Ⅲ 国民の生存権を保障するために(C) 社会保障制度が日本には整っているが、年々、社会保障費が増加していることが問題となっている。

問1 下線部(A)に関して、次の①～③のそれぞれの問いに答えなさい。

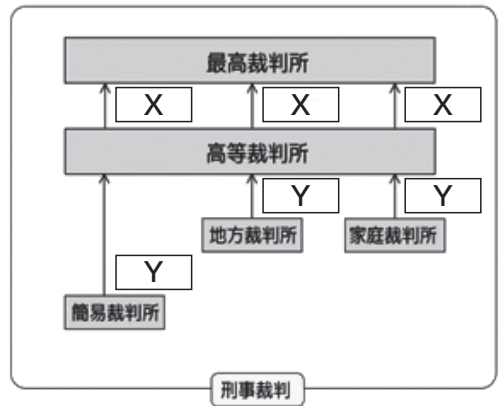
- ① 裁判官についての記述として正しいものを、次の(ア)～(エ)の中からひとつ選んで記号で答えなさい。

- (ア) 最高裁判所長官は、内閣が指名し、天皇が任命する。そのほかの裁判官は内閣が任命する。
- (イ) 最高裁判所長官は、天皇が指名し、内閣が任命する。そのほかの裁判官は内閣が任命する。
- (ウ) 最高裁判所長官は、内閣が指名し、天皇が任命する。そのほかの裁判官は内閣が指名する。
- (エ) 最高裁判所長官は、天皇が指名し、内閣が任命する。そのほかの裁判官は内閣が指名する。

- ② すでに任命されている最高裁判所の裁判官が、ふさわしい者かどうかを国民^{ほんだん}が判断する制度を答えなさい。

- ③ 右の図について、空らん X Y に適する語句の組み合わせとして正しいものを、次の(ア)～(エ)の中からひとつ選んで記号で答えなさい。

- (ア) X : 控訴 Y : 上告
 (イ) X : 控訴 Y : 任命
 (ウ) X : 上告 Y : 控訴
 (エ) X : 上告 Y : 任命



問2 下線部 (B) に関して、次の①・②のそれぞれの問いに答えなさい。

- ① 次の会話文を読み、会話の中に登場する選挙方法を、次の(ア)～(エ)の中からひとつ選んで記号で答えなさい。

愛さん：次の選挙は令和●年の選挙だね。
 誠さん：その選挙で選ばれるのはどんな人？
 愛さん：この選挙に立候補できるのは25歳以上の人だよ。
 誠さん：どうやって選ばれるの？
 愛さん：有権者は立候補者ではなく、各政党に投票する。政党は得票数に応じて議席を獲得するの。この方法をドント式かくとくというよ。
 誠さん：私は、まだ選挙権はないけれども関心を持ってしてみるよ。

- (ア) 小選挙区制 (イ) 比例代表制 (ウ) 都道府県制 (エ) 大選挙区制

- ② 日本の地方自治で採用されている、市民が議会の解散や首長の解職を請求することをカタカナで答えなさい。

問3 下線部(C)に関して、次の①・②のそれぞれの問いに答えなさい。

① 社会保障制度の一つに社会保険制度があります。その中の年金保険についての記述として最も適当なものを、次の(ア)～(エ)の中からひとつ選んで記号で答えなさい。

(ア) 保険料は40歳になってから支払い、原則として65歳以上の人が受け取ることができる。

(イ) 保険料は40歳になってから支払い、原則として退職した全ての人を受け取ることができる。

(ウ) 保険料は20歳になってから支払い、原則として65歳以上の人が受け取ることができる。

(エ) 保険料は20歳になってから支払い、原則として退職した全ての人を受け取ることができる。

② 社会保障制度の4つの分野のうち、「病気や感染を予防したり、^{えいせい}衛生環境を整えること」に該当するものとしてふさわしいものを、次の(ア)～(エ)の中からひとつ選んで記号で答えなさい。

(ア) 社会保険 (イ) 社会福祉 (ウ) 公的扶助 (エ) 公衆衛生

問4 日本国憲法で規定された国民の権利についての記述として最も適当なものを、次の

(ア)～(エ)の中からひとつ選んで記号で答えなさい。

(ア) 主権は国民にあるとし、基本的人権は^{おか}侵すことのできない永久の権利とした。

(イ) 主権は国民にあるとし、基本的人権は法律の^{はんい}範囲内でのみ認められるとした。

(ウ) 主権は天皇にあるとし、基本的人権は侵すことのできない永久の権利とした。

(エ) 主権は天皇にあるとし、基本的人権は法律の範囲内でのみ認められるとした。

問5 1948年12月10日に国連総会で「あらゆる人が誰にも^{おか}侵されることのない人間としての権利を生まれながらに持っている」と採択されました。採択されたものを、次の(ア)～(エ)の中からひとつ選んで記号で答えなさい。

- (ア) ワイマール憲法 (イ) 権利章典
(ウ) 世界人権宣言 (エ) フランス人権宣言

[4] もし100年後の未来にタイムスリップして、そこで出会った子どもたちに「昔の人たちは地球の資源をたくさん使いすぎてしまったんだよ」と言われたら、あなたはどのように感じますか？ 未来の人々にとって、私たちの暮らしぶりが「贅沢^{ぜいたく}しすぎた時代」として語り継^つがれてしまうかもしれません。今、私たちは便利さや豊かさに慣れすぎて、大切なことを見失っていないでしょうか。持続可能な社会を目指すために、今の私たちにできることを一緒に考えてみましょう。

問1 100年後の未来の子どもたちに「昔の人たちは地球の資源をたくさん使いすぎてしまったんだよ」と言われる可能性がある資源を1つ答えなさい。

問2 100年後の子どもたちが「昔の人たちは資源を使いすぎた」と話すのを聞いて、あなたは決心しました。現在の科学技術の中で、現在の便利さを保ちながら、資源を上手に使い続けるための「新しい工夫」や「アイデア」を1つ提案し、その取り組みがどのように未来の環境を守り、持続可能な社会を築く助けになるかを具体的に説明しなさい。

